




a

Lees en los op. Zoek het antwoord in de uurtabel.

TRAJECT KNOKKE – BRUSSEL	
Knokke	15:27
Duinbergen	15:31
Heist	15:34
Brugge	15:49
Aalter	16:04
Gent-Sint-Pieters	16:18
Brussel-Zuid	16:51
Brussel-Centraal	16:59
Brussel-Noord	17:04
Brussels Airport	17:17

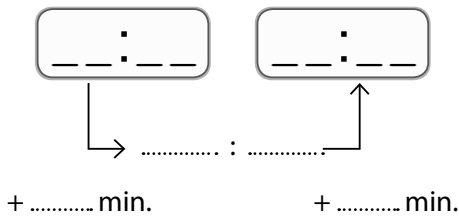
- Deze trein vertrekt in en komt aan in
- Ik stap op in Aalter. De trein vertrekt daar om
- Ik stap op in Heist. Ik moet naar Brussel-Zuid. Hoeveel haltes later moet ik afstappen?



b

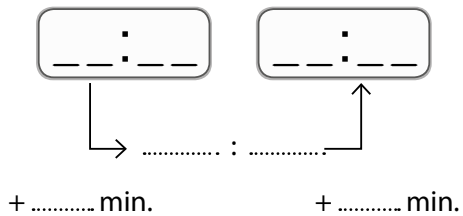
Bereken de duur van elke rit. Zoek het antwoord in de uurtabel.

Van Gent-Sint-Pieters naar Brussel-Noord



totale tijdsduur: min.

Van Heist naar Gent-Sint-Pieters



totale tijdsduur: min.

c

Nu zonder tussenstappen! Lees en los op.

Mil rijdt van Heist naar Aalter.

De treinrit duurt
.....

Stan rijdt van Brussel-Zuid naar Brussels Airport.

De treinrit duurt
.....